

平成 19 年度入学者選抜学力検査問題

社 会

注 意

- 1 監督者の「始め」の合図があるまでは、開いてはいけません。
- 2 検査時間は、10時35分から11時20分までの45分間です。
- 3 大きな問題は全部で8問で、表紙を除いて7ページです。
また、別に解答用紙が1枚あります。
- 4 監督者の「始め」の合図があったら、すぐに受検番号をこの表紙と解答用紙のきめられた欄に書きなさい。
- 5 答えは、必ず解答用紙のきめられた欄に書きなさい。
また、特に指示のあるもののほかは、各問いのア、イ、ウ、エのうちから最も適当なものをそれぞれ一つ選んで、その記号を解答欄の()の中に書き入れなさい。
- 6 「に当てはまる語を書きなさい」などの問いについての答えは、数字や一般にカタカナなどで書くもののほかは、できるだけ漢字で書きなさい。
- 7 監督者の「やめ」の合図があったら、すぐやめて、筆記用具をおきなさい。

受 検 番 号

番

インディアナ州 州都…インディアナポリス 人口…約 624 万人(2004 年)

アメリカ中部に位置し、五大湖の一つであるミシガン湖の南岸に接している。内陸のため寒暖の差が大きい。自動車関連産業を中心とした工業が盛んであるが、大豆やとうもろこしなどの農産物の生産も盛んである。1872 年 1 月、①日本からの使節団が、シカゴからワシントンへ移動する途中にこの州を通った。

ヴォークリューズ県 県都…アヴィニョン 人口…約 50 万人(2003 年)

フランス南部に位置し、地中海に近い。ヨーロッパの交通のかなめであり、パリから南下してくる鉄道や高速道路はこの県で分かれ、西はスペインへ、東は へと通じている。また、この県の気候帯は大部分が であり、主要な産業は農業である。特に農地の 40 % はワインのためのぶどう畑となっている。

- 1 カード中の に当てはまる人物名を書きなさい。
- 2 下線部①の使節団は、条約改正の交渉と欧米の視察を目的として 1871 年(明治 4 年)に派遣され、アメリカ、フランスなどを訪れて 1873 年(明治 6 年)に帰国した。この使節団を何というか。
- 3 カード中の , に当てはまる語の組み合わせとして、正しいのはどれか。

ア Ⅱ - イタリア Ⅲ - 温帯 イ Ⅱ - ドイツ Ⅲ - 温帯
ウ Ⅱ - イタリア Ⅲ - 熱帯 エ Ⅱ - ドイツ Ⅲ - 亜寒帯(冷帯)

- 4 次の文中の に当てはまる宣言名を書きなさい。

基本的人権は、人が生まれながらにして持っている自由や平等などの権利である。自由権や平等権は、18 世紀後半に発表されたアメリカの とフランスの人権宣言の中に示されている。

- 5 A さんが、中国、アメリカ、フランスの穀物生産量(2004 年)を調べたところ、中国とアメリカがそれぞれ世界第 1 位と第 2 位であることがわかった。そこで、さらに両国の農業について調べ、図のようにまとめた。図からわかる、中国と比較したアメリカの農業の特徴について、「農業従事者 1 人当たりの農地面積」と「機械化」の二つの語を用いて簡潔に書きなさい。

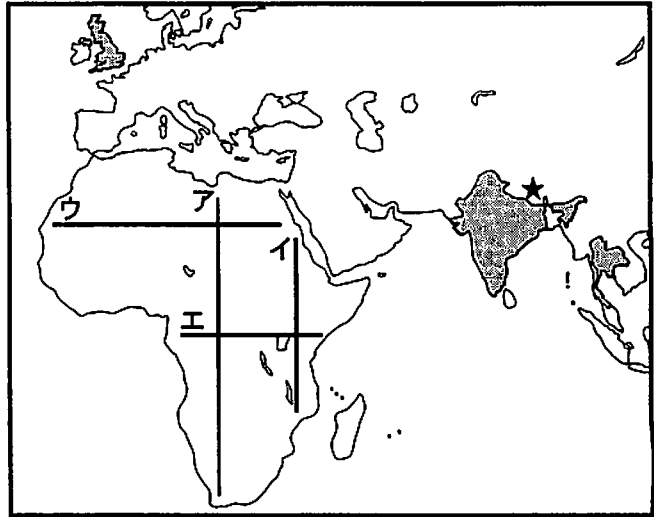
	農業従事者数 (万人) (2002 年)	農地面積 (万 ha) (2002 年)	農業用トラクター台数 (千台) (2003 年)
中国	51095	55396	995
アメリカ	291	41186	4760

図 (「世界国勢図会」, 「データブック オブ・ザ・ワールド」により作成)

4 現在、千個以上の人工衛星が地球を周回し、有人宇宙施設である国際宇宙ステーションへの民間人旅行も始まるなど、宇宙空間の利用が進んでいる。次の1から5までの問いに答えなさい。

1 宇宙から見た地球をイメージする道具として、地球儀は効果的である。多くの地球儀には、地球表面上の位置を示すために、経線と緯線が引かれている。北極点の真上から地球儀を見ると、0°、東経90°の経線はどのように見えるか。この2本の経線を解答用紙に記入しなさい。

2 図1に★で示した地点の上空を飛行中の国際宇宙ステーションから、地球で最も高い山が見えた。この山を含む8000m級の山々が連なる山脈名を書きなさい。



3 人工衛星からアフリカ大陸を撮影すると、砂漠の分布がわかる。図1の直線ア、イ、ウ、エのうち、ほぼ全てが砂漠を通過しているのはどれか。

4 国際宇宙ステーションから、地球の夜の部分を見ると、都市の灯りが見え、先進国の都市は、特に明るく見える。図2は、わが国と図1に示した3か国の電力消費量(2002年)を示している。図2のア、イ、ウ、エのうちインドに当てはまるのはどれか。

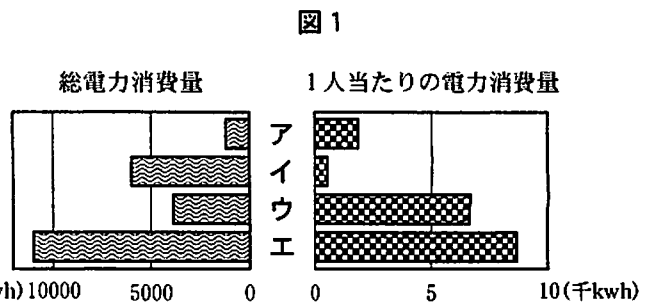


図2 (「世界の統計」により作成)

5 希望さんが、人工衛星を保有する国について調べたところ、その多くはわが国の主な貿易相手国であることがわかった。そこで希望さんは、このうちの6か国に関して、わが国の主な輸入品について調べ、図3にまとめた。さらに、輸入品を大きく二つに分類し、それをもとに、この6か国を図4のように分けた。図3、図4を見て、AグループとBグループのそれぞれの特徴を簡潔に書きなさい。

国名	わが国の主な輸入品(金額上位3品目)とわが国の輸入総額(各国ごと)に占める割合(%) (2005年)					
アメリカ	機械類	32.2	航空機類	6.5	精密機械	6.2
オーストラリア	石炭	32.5	鉄鉱石	12.5	液化天然ガス	11.9
カナダ	木材	13.7	肉類	11.9	石炭	8.5
イタリア	衣類	16.1	機械類	13.5	バッグ類	11.2
イギリス	機械類	23.5	医薬品	17.7	自動車	12.5
ブラジル	鉄鉱石	30.3	肉類	18.2	アルミニウム	9.5

図3 (「日本国勢図会」により作成)

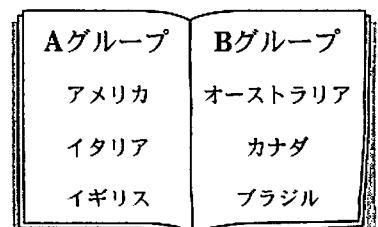


図4

5 略年表を見て、次の1から5までの問いに答えなさい。

年代	できごと
57	倭の奴国王が漢に使いを送る……
593	聖徳太子が摂政になる……………A
724	聖武天皇が即位する……………B
1429	尚氏が統一王国をつくる……………C
1467	応仁の乱がおこる……………D

- 1 ④の時期のわが国のようすに関して、「魏志倭人伝」に書かれているのはどれか。
- ア 邪馬台国の女王卑弥呼は、30余りの小さな国々を従えていた。
- イ 大和朝廷(ヤマト王権、大和政権)の大王は、九州から関東地方にいたる各地の王を従えていた。
- ウ 中央の貴族が国司として各国に派遣され、地方の豪族は郡司に任じられていた。
- エ 征夷大將軍は、国ごとに守護をおき、荘園や公領に地頭をおいていた。

2 Aについて、次の文中の に当てはまる語を書きなさい。

聖徳太子は、 の制度を設け、家柄にとらわれず、才能のある人物を役人に用いようとした。また、仏教や儒教の考え方を取り入れて憲法十七条を定め、天皇の命令に従うべきことなど、役人の心得を示した。

3 Bについて、聖武天皇は、仏教の力で国家を守ろうと考えた。そのためにどのようなことをしたか。解答欄に示した書き出しに続けて簡潔に書きなさい。

4 Cに関連して、図は王国の城を復元したものである。この王国は、日本や中国、朝鮮、東南アジアとの中継貿易で栄えた。この王国名を書きなさい。



図

5 Dに関連して、次の文中の に当てはまるのはどれか。

平安時代にはじまり室町時代まで続けられていた^{ぎわん}祇園祭は、応仁の乱により一時途絶えた。しかし、 とよばれる裕福な商工業者により復興された。

- ア 華族 イ 五人組 ウ 株仲間 エ 町衆

6 次の1から5までの問いに答えなさい。

1 次の文中の に当てはまる語を書きなさい。

江戸時代の中頃から日本の古典についての研究が進み、18世紀後半には、日本古来の精神を明らかにしようとした本居宣長が「古事記伝」をあらわし、 とよばれる学問を大成した。この学問は、天皇を尊ぶ思想と結びつき、幕末の尊王攘夷運動に影響を与えた。

2 1873年、政府は国家の財政を安定させるため、地租改正を実施した。これにより、課税の基準と、税として納めるものは、それぞれどのように変更されたか。改正前と改正後の違いがわかるように、解答欄に示した書き出しに続けて簡潔に書きなさい。

3 図は、1865年のわが国の主な輸出品の割合を示している。

図中のXは、後に群馬県の富岡につくられた官営模範工場などで生産されたものである。Xに当てはまるのはどれか。

ア 鉄鋼 イ 銅 ウ 綿糸 エ 生糸

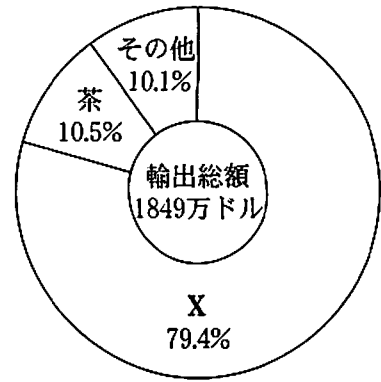


図 「幕末貿易史の研究」により作成

4 大正時代には、都市の市民生活にさまざまな変化が見られた。この頃の都市の生活のようすについて述べているのはどれか。

- ア テレビ、洗濯機などの家庭電化製品が普及した。
- イ 牛肉を煮込んだ鍋料理が流行し、パンも食べられるようになった。
- ウ 寺子屋で、読み、書き、そろばんを習う子どもが増えた。
- エ 一部を洋間にした新しい様式の住宅(文化住宅)が流行した。

5 次の文中の に当てはまる語を書きなさい。

わが国とソ連との間で、1956年に 宣言が調印された。この宣言によりソ連との戦争状態が終了し、わが国の国際連合への加盟をソ連が支持することなどが約束された。この年わが国は国際連合に加盟し、国際社会に復帰することになった。

7 次の1から4までの問いに答えなさい。

1 次の文は、日本国憲法の条文の一部である。文中の に当てはまるのはどれか。

すべて裁判官は、その良心に従ひ してその職権を行ひ、この憲法及び法律にのみ拘束される。

ア 連帯 イ 独立 ウ 専念 エ 団結

2 次の文中の に当てはまる語を書きなさい。

内閣総理大臣とすべての国務大臣は、行政の運営について決定するために とよばれる会議を開く。この会議では全員一致で決定がなされる。

3 次の文中の に当てはまる語を書きなさい。

地方公共団体は、法律の範囲内で、その地域内のみで通用するきまり(法)である を制定することができる。

4 内閣総理大臣と地方公共団体の首長は、それぞれどのように選ばれるか。「国民」と「住民」の二つの語を用いて簡潔に書きなさい。

8 次の1から6までの問いに答えなさい。

1 次の文中の に当てはまるのはどれか。

営利を目的とせず、福祉や環境などの分野で活動を行う民間の団体を という。わが国では、1998年にこのような団体の活動を促進するための法律が制定された。

ア PKO イ ILO ウ FAO エ NPO

2 次の①から④は、1997年に開かれた国際会議において採択された議定書の主な内容である。この会議が開かれた都市名を書きなさい。

- ① 削減対象の温室効果ガスは、二酸化炭素、メタンなど6種類とする。
- ② 1990年水準を基準として、先進国全体で温室効果ガスを5.2%削減する。
- ③ 2008年～2012年の間に削減目標を達成する。
- ④ 国家間の温室効果ガス排出権取引を認める。

3 次の文中の に当てはまる語を書きなさい。

近年、わが国の政府は、行財政改革を進める中で、さまざまな公的な制約を緩めて自由競争を広める という政策を進めている。この結果、電力の小売りの自由化、コンビニエンスストアでのドリンク剤の販売などが行われるようになった。

4 次の文中の I , II に当てはまる語の組み合わせとして、正しいのはどれか。

市場での価格は、需要量と供給量とがつりあうように動いていく。一般的に、天候不良時の野菜の価格は、 I 量が II するため、上昇する。

ア I - 供給 II - 減少 イ I - 供給 II - 増加
ウ I - 需要 II - 減少 エ I - 需要 II - 増加

5 次の文中の に当てはまる語を書きなさい。

日本銀行は、「銀行の銀行」、「政府の銀行」、「発券銀行」といった特別な役割を担っており、一般の銀行と区別して とよばれる。

6 図は、「夫は外で働き、妻は家庭を守るべきである」という考え方に賛成する人の割合を示したものである。図から読みとれる、全ての年齢層にみられる変化と、他の年齢層と比較した60歳以上の年齢層の特徴について、解答欄に示した書き出しに続けてそれぞれ簡潔に書きなさい。

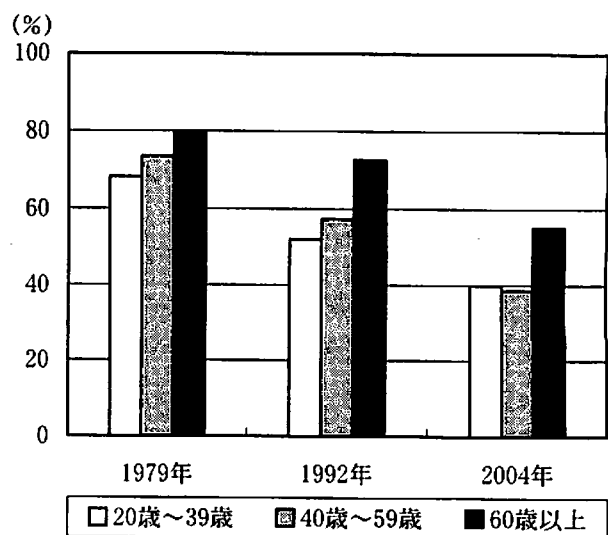


図 (「男女共同参画統計データブック」により作成)