

平成 18 年度入学者選抜学力検査問題

社 会

注 意

- 1 監督者の「始め」の合図があるまでは、開いてはいけません。
- 2 検査時間は、10時35分から11時20分までの45分間です。
- 3 大きな問題は全部で8問で、表紙を除いて7ページです。
また、別に解答用紙が1枚あります。
- 4 監督者の「始め」の合図があったら、すぐに受検番号をこの表紙と解答用紙のきめられた欄に書きなさい。
- 5 答えは、必ず解答用紙のきめられた欄に書きなさい。
また、特に指示のあるもののほかは、各問いの **ア**、**イ**、**ウ**、**エ**のうちから最も適当なものをそれぞれ一つ選んで、その記号を解答欄の()の中に書き入れなさい。
- 6 「 に当てはまる語を書きなさい」などの問いについての答えは、数字や一般にカタカナなどで書くもののほかは、できるだけ漢字で書きなさい。
- 7 監督者の「やめ」の合図があったら、すぐやめて、筆記用具をおきなさい。

受 検 番 号

番

1 次の1, 2の問いに答えなさい。

1 次の(1)から(4)までの文中の に当てはまるのはどれか。

(1) 2004年における、わが国の総人口は約1億2800万人であり、わが国の国土面積は約 万km²である。

ア 4 イ 38 ウ 960 エ 1708

(2) 奈良県は内陸に位置しているが、京都府は に面している。

ア 瀬戸内海 イ 東シナ海 ウ 日本海 エ オホーツク海

(3) 奈良時代に編集された「万葉集」には、天皇や貴族のほかに、農民や、九州北部の守りについていた とよばれた人々の歌もおさめられている。

ア 屯田兵 イ 南蛮人 ウ 遣唐使 エ 防人

(4) わが国の地方公共団体は、住民のために などの仕事を行っている。

ア 条約の締結 イ 法律の制定 ウ 上下水道の整備 エ 国政調査権の行使

2 次の(1)から(4)までの文中の に当てはまる語を書きなさい。

(1) 関東南部から九州北部にかけて形成された帯状の工業地域は、 とよばれ、わが国の工業生産の中心となっている。

(2) 第一次世界大戦後のインドでは、非暴力・不服従を唱える の指導のもとで、イギリスに対し完全な自治を求める運動が高まった。

(3) 江戸幕府は、オランダ人に長崎での貿易を許し、長崎湾内の人工の島である にオランダ商館を置いた。

(4) 日本国憲法では、労働三権が保障されている。このうち、労働者が労働組合をつくる権利のことを 権という。

2 次の文は、ある中学校の社会科の授業における先生と生徒の会話の一部である。これを読んで、1から5までの問いに答えなさい。

先生：「今年は、ドイツでサッカーのワールドカップが開催されますね。この地図(図1)は、ヨーロッパにおける、ワールドカップの開催国と開催年を示しています。この地図からどのようなことがわかりますか。」

Aさん：「ドイツでのワールドカップの開催は、フランスやイタリアと同様に、2度目となります。」

先生：「そうですね。1974年の大会は、ドイツが東西に分かれていた時代の、西ドイツで開催されました。ドイツについては、どのようなことを知っていますか。」

Bさん：「はい。戦後長い間、冷戦(冷たい戦争)の象徴でもあった『 I 』の壁』が、1989年にとりこわされ、翌年東西ドイツが統一されたことを、授業で学びました。」

先生：「みなさんが生まれたころのできごとですね。そのほかにはどのようなことを学習しましたか。」

Cさん：「ドイツは、政治的な協力や経済統合などを目的として1993年に発足した に加盟しています。」

先生：「その組織は現在、共通通貨ユーロを導入していることでも知られていますね。ところで、前回③ 2002年のワールドカップは、アジアで初めて開催された大会であり、わが国を含めた2か国での共同開催となりました。サッカーは、子どもから④ 高齢者まで、世界中でたいへん人気の高いスポーツです。みなさんも、ワールドカップに出場する国々について関心を持ちながら、試合を観戦してみてくださいはどうか。」

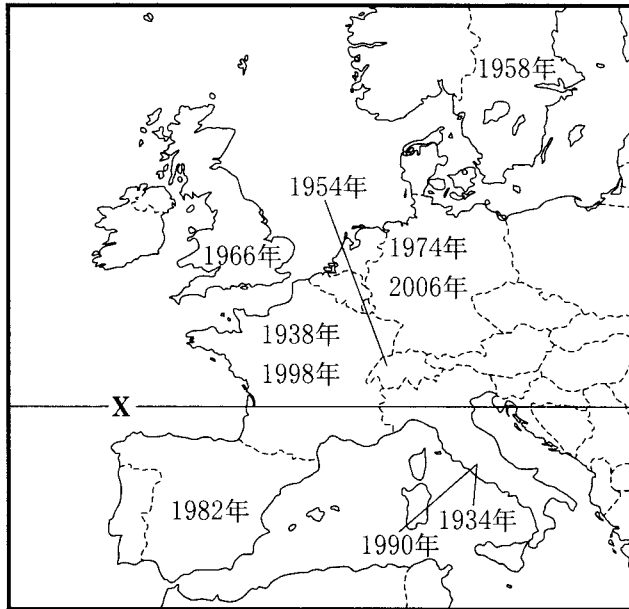


図1

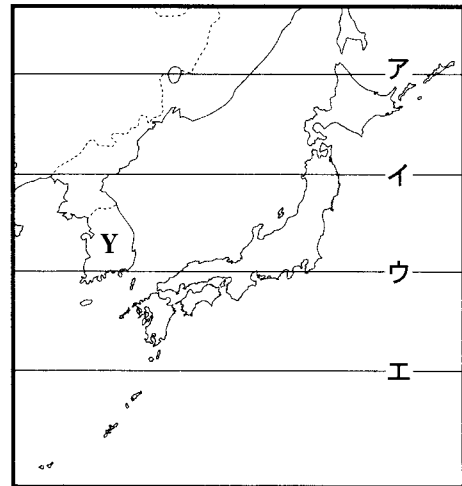


図2

- 1 図1のXの緯線と同じ緯度を示す緯線は、図2のア、イ、ウ、エのどれか。
- 2 文中の に当てはまる都市名を書きなさい。
- 3 文中の に当てはまる組織名を書きなさい。
- 4 下線部③は、わが国と図2のY国で行われた。わが国とY国について述べた、次の文の に当てはまる語を書きなさい。

わが国は1965年に、Y国と 条約を結び、国交を正常化した。

- 5 下線部④について、図3は、日本、イタリア、フランス、イギリスの、全人口に占める高齢者(65歳以上)の割合の推移と今後の予測を示している。図3から読みとれる、4か国に共通する傾向と、ヨーロッパの3か国と比較した日本の特徴を、それぞれ簡潔に書きなさい。

	日本	イタリア	フランス	イギリス
1980年	9.1%	13.1%	14.0%	15.1%
1990年	12.0	15.3	14.0	15.9
2000年	17.3	18.1	16.0	15.9
2010年	22.5	20.6	16.5	16.4
2020年	27.8	23.7	20.3	18.6

図3 (「世界国勢図会」により作成)

3 Sさんは、香川県へ旅行に出かけた。これに関して、次の1から5までの問いに答えなさい。

1 Sさんは、宇都宮駅から新幹線を乗り継ぎ、車窓からの風景を楽しみながら、岡山駅へ移動した。次のア、イ、ウを、車窓から見えた順に並べかえ、記号で答えなさい。

- ア 東名高速道路の背後に、富士山が大きく見えた。
- イ わが国で最も流域面積の広い、利根川が見えた。
- ウ 世界遺産に登録されている、^{ひめじ}姫路城が見えた。

2 岡山駅で車に乗り換え、瀬戸大橋を渡ると、大きな原油タンクが見えた。図1は、わが国の原油輸入先の割合(2004年)を示している。Xの国名を書きなさい。

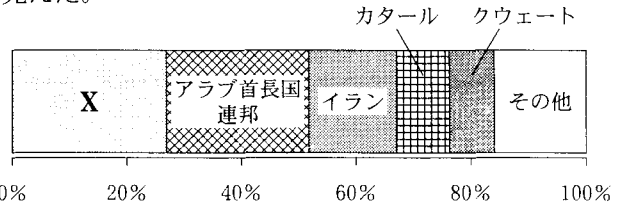


図1 「日本国勢図会」により作成

3 高速道路を走っていると、図2の省略部分に位置する、標高422mの飯野山が見えた。飯野山を円錐形とし、傾斜もほぼ一定であるとして、解答欄に100mごとの等高線を書き入れ、飯野山の模式図を完成させなさい。ただし、手書きでよい。なお、解答欄中の三角点は、飯野山の頂上を示している。

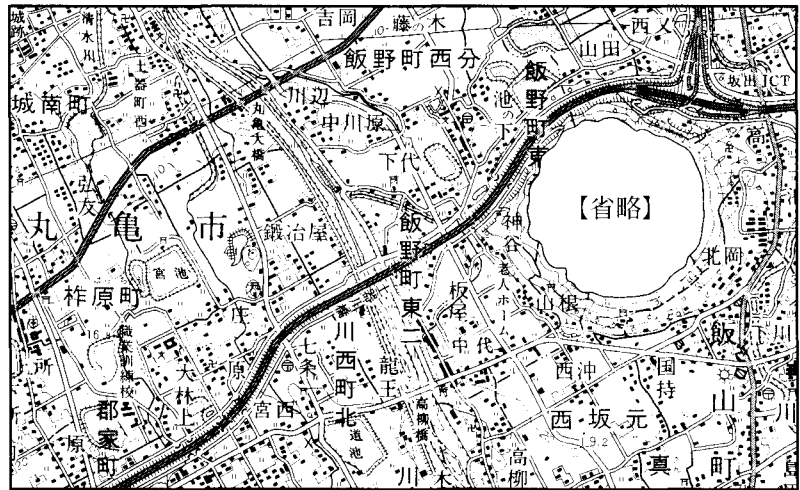


図2 (国土地理院発行5万分の1地形図により作成)

4 図2に見られるように、香川県の平野部には、多くの池がある。これらの池がつけられた理由はどれか。

- ア 火山の溶岩によって、川がせき止められてつけられた。
- イ 流量の豊富な川が多いので、水力発電のためにつけられた。
- ウ 雨が少ない気候なので、農業用水などの確保のためにつけられた。
- エ 海から海水を引き込んで塩をとるためにつけられた。

5 Sさんは、飛行機を利用して帰ってきた。後日、図3のように、二つの航空路線の所要時間と、岡山県および香川県から東京都へ移動した人が主に利用した交通機関の割合を調べてまとめた。図3から読みとれる、交通機関の利用の傾向について、「所要時間」の語を用いて、簡潔に書きなさい。

航空路線	所要時間	移動区間	主に利用した交通機関の割合		
			鉄道	航空	その他
岡山空港→東京国際空港	70~75分	岡山県→東京都	70%	22%	8%
高松空港→東京国際空港	75分	香川県→東京都	10%	81%	9%

図3 (国土交通省「全国幹線旅客純流動調査(2000年)」ほかにより作成)

4 次の1, 2, 3の問いに答えなさい。

1 図1を見て、次の(1), (2), (3)の問いに答えなさい。

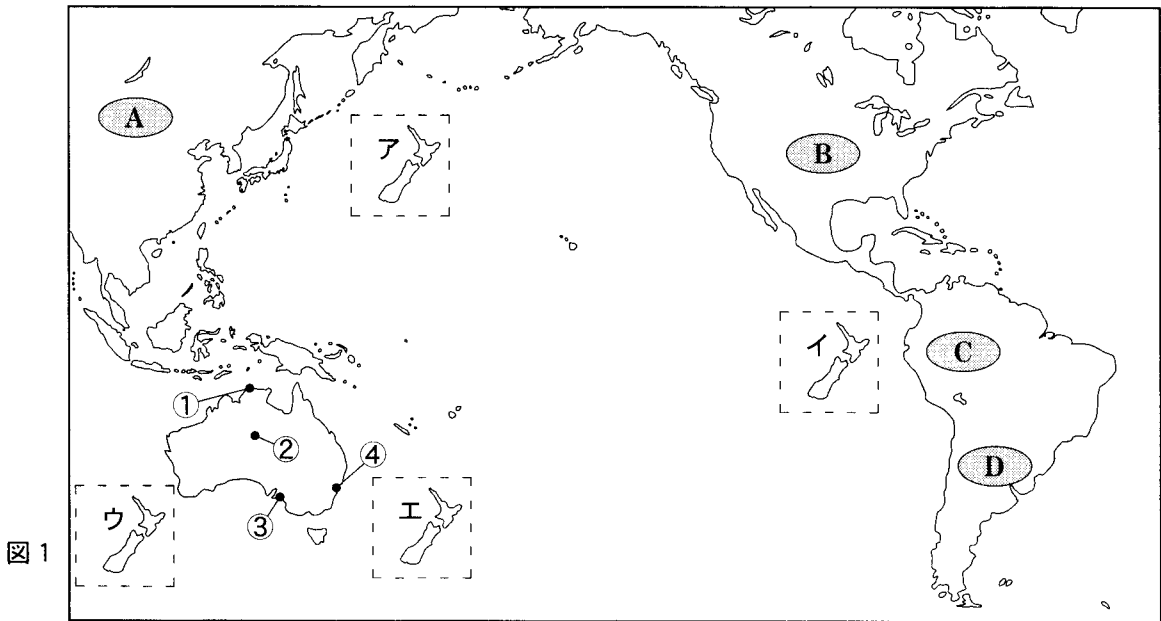


図1

(1) 図1の○で示しているA, B, C, Dのうち、熱帯に特有の密林が広がる地域はどれか。

(2) 図1のア, イ, ウ, エのうち、環太平洋造山帯に属するニュージーランド(北島と南島)の正しい位置はどれか。

(3) 図2は年平均気温、図3は年降水量を示している。

図1の①, ②, ③, ④の都市のうち、年平均気温と

年降水量
がともに
前橋市に
近いのは
どれか。

前橋市の年平均気温	14.2℃
前橋市の年降水量	1162.6mm

図2

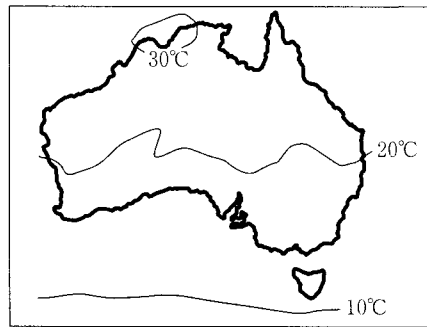
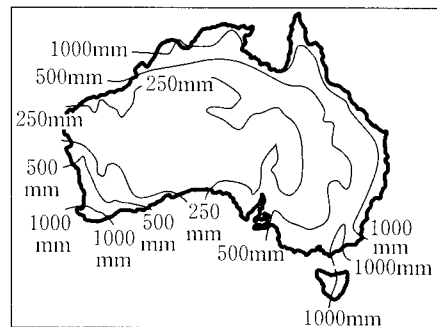


図3



2 次の文は、アフリカのある国について述べたものである。この国名を答えなさい。

この国は、アフリカ大陸の北東部に位置し、地中海に面している。世界最長の川の流域には、古代文明の遺跡があり、世界各地から多くの観光客が訪れている。

3 図4は、米と小麦の生産量の地域別割合(2002年)を示している。図4から読みとれる、米の生産地域と小麦の生産地域の特徴について、それぞれ簡潔に書きなさい。

	米		小麦
アジア	90.8%	アジア	44.1%
南アメリカ	3.4	ヨーロッパ	37.2
アフリカ	2.9	北アメリカ	11.0
北アメリカ	2.1	南アメリカ	3.2
ヨーロッパ	0.6	アフリカ	2.8
オセアニア	0.2	オセアニア	1.7

図4 (「世界国勢図会」により作成)

5 略年表を見て、次の1から5までの問いに答えなさい。

年代	できごと
701	大宝律令が定められる……………A
794	都を京都(平安京)に移す……………↑
935	平将門の乱がおこる……………↑
1192	源頼朝が征夷大將軍になる……………↑
1467	応仁の乱がおこる……………↑
1603	徳川家康が征夷大將軍になる……………↑
1841	天保の改革がはじまる……………B

1 Aについて、次の文中の , に当てはまる語を書きなさい。

この律令により、人々には税や労役ろうえきなど多くの負担が課された。税には、きまった量の稲を納める租、特産物などを納める , 労役のかわりに布などを納める があった。

2 ㉓の時期、朝廷の軍を率いて、蝦夷の指導者であるアテルイ(阿弭流為)を降伏させた人物はどれか。

- ア 卑弥呼 イ 坂上田村麻呂
ウ 北条泰時 エ 織田信長

3 図は、㉔の時期につくられた、ある建物の内部である。金や馬などの産物によって栄えた豪族の藤原氏が、浄土へのあこがれから平泉ひらいずみの中尊寺につくったこの建物を何というか。



4 ㉕の時期の農業について述べているのはどれか。

- ア 土地を深く耕せる備中鋤びつちゆうくわが発明され、干した鰯いわしや油かすが肥料に使われた。
イ 大陸から稲作が伝えられ、稲をたくわえるための高床の倉庫がつけられた。
ウ 生糸の輸出が増加し、養蚕がさかんになり、桑畑が増えた。
エ かんがいの技術や牛馬による農耕がすすみ、米と麦の二毛作が広まった。

5 Bについて、この改革で老中水野忠邦が行った、農村を復興させるための政策の内容と、物価を下げるための政策の内容を、解答欄に示した書き出しに続けてそれぞれ簡潔に書きなさい。

6 次の1から4までの問いに答えなさい。

1 図1は、伊勢神宮などのお札ふだが天から降ってきたとあって、人々が「ええじゃないか」と、やしたてながら踊るさわぎを描いたものである。このさわぎがおこったころのできごとはどれか。

- ア 大塩平八郎が乱をおこした。
イ 徳川慶喜が大政奉還を申し出た。
ウ 大日本帝国憲法が發布された。
エ 富山県で米騒動がおこった。



図1

2 1858年に結ばれた日米修好通商条約は、わが国にとって不平等な内容を含んでいた。不平等な内容を二つ簡潔に書きなさい。

3 大正デモクラシーに関して、次の(1)、(2)の問いに答えなさい。

(1) 民本主義を唱え、普通選挙にもとづく政党政治を主張した人物は誰か。

(2) 図2は、全人口に占める有権者数の割合の推移を示している。1925年に成立した普通選挙法における有権者の資格について、正しく説明しているのはどれか。

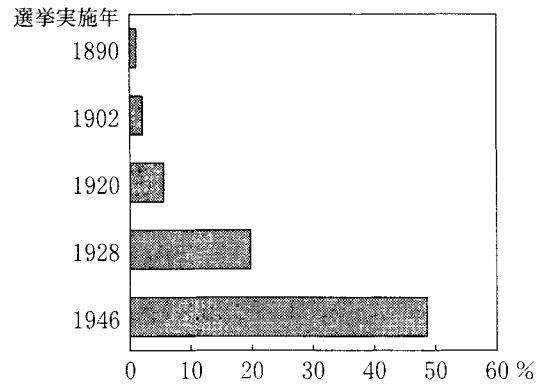


図2 (「日本長期統計総覧」により作成)

ア 直接国税の納税額にかかわらず、20歳以上の男女に選挙権が与えられた。

イ 直接国税の納税額にかかわらず、25歳以上の男性に選挙権が与えられた。

ウ 直接国税の納税額3円以上で、25歳以上の男性に選挙権が与えられた。

エ 直接国税の納税額10円以上で、25歳以上の男性に選挙権が与えられた。

4 世界恐慌きょうこうがおこると、アメリカのルーズベルト大統領は、失業者を救済するため、積極的に公共事業をおこし、国民の購買力を高める政策を開始した。この政策を何というか。

7 次の1、2、3の問いに答えなさい。

1 次の文中の に当てはまるのはどれか。

日本国憲法において保障されている人権のうち、 は自由権に分類される。

ア 財産権 イ 請願権 ウ 生存権 エ 平等権

2 次の文を読んで、(1)、(2)の問いに答えなさい。

衆議院で内閣不信任の決議案が可決されると、10日以内に衆議院が解散されない限り、内閣は I をしなければならない。衆議院が解散されたときは、解散の日から40日以内に衆議院議員の総選挙が行われ、その総選挙の日から30日以内に召集される II で、内閣総理大臣が指名される。

(1) 文中の I に当てはまる語を書きなさい。

(2) 文中の II に当てはまるのはどれか。

ア 常会 イ 特別会 ウ 臨時会 エ 緊急集会

3 わが国の裁判所には、最高裁判所と下級裁判所がある。このうち、最高裁判所が「憲法の番人」といわれる理由を簡潔に書きなさい。

8 次の1から5までの問いに答えなさい。

1 国連児童基金は、主に発展途上国において、児童に対する予防接種や、安全な水の供給などを行っている国際連合の機関である。国連児童基金の略称はどれか。

- ア IAEA イ ILO ウ UNESCO エ UNICEF

2 次の文は、1993年に制定された、わが国のある法律の一部である。この法律を何というか。

第1条 この法律は、環境の保全について、基本理念を定め、並びに国、地方公共団体、事業者及び国民の責務を明らかにするとともに、……環境の保全に関する施策を総合的かつ計画的に推進し、もって現在及び将来の国民の健康で文化的な生活の確保に寄与するとともに人類の福祉に貢献することを目的とする。

3 日本銀行は、一般の銀行に資金を貸し出すときの利子率を上げ下げすることなどにより、景気の調節をはかっている。この利子率を何というか。

4 新しい技術や独創的な経営を導入することで、新しい商品を開発したり、新しい分野を開拓したりする中小企業のことを何というか。

5 次の(1)、(2)の問いに答えなさい。

(1) 図1は、わが国の主な税金を分類したものである。図1の I、II に当てはまる語の組み合わせとして正しいのはどれか。

- ア I－法人税 II－消費税
 イ I－関税 II－法人税
 ウ I－関税 II－消費税
 エ I－消費税 II－法人税

	直接税	間接税
国 税	所得税 I	II 酒 税
地方税	自動車税 固定資産税	ゴルフ場利用税 入湯税

図1

(2) 図2は、給与所得者の標準世帯(夫婦と子ども2人の世帯)における、給与収入に対する所得税と、その割合を示している。図2を参考にして、所得税における累進課税のしくみとそのねらいについて、解答欄に示した書き出しに続けて簡潔に書きなさい。なお、「税率」と「負担能力」の二つの語を用いること。

給与収入	所 得 税	給与収入に対する所得税の割合
400万円	3.9万円	1.0%
600万円	15.1万円	2.5%
800万円	28.5万円	3.6%
1000万円	55.0万円	5.5%
1200万円	84.2万円	7.0%
1500万円	141.2万円	9.4%
2000万円	283.7万円	14.2%

図2 (「図説日本の税制 平成16年度版」により作成)